


Логические задачи

Задача 1

У Кати 4 ленты. Одну из них она разрезала на две равные части. Сколько лент стало у Кати?



Задача 2

На одной тарелке четыре яблока, на второй — столько же, а на третьей — столько, сколько на второй. Сколько яблок на третьей тарелке?



4 яблока



столько же




Задача 46

Зайчик купил воздушные шары и все их раздарил: два шарика он подарил мышке и столько же подарил медвежонку. Сколько шариков купил зайчик?




Задача 47

Помоги Пете рассадить 10 рыбок поровну в два аквариума.



Задача 14

Полоску бумаги надо разделить на четыре одинаковые части. Сколько над-
резов надо сделать на этой полоске?



Задача 15

У Маши было четыре шара зелёного и жёлтого цветов. Зелёных шаров
было больше, чем жёлтых. Сколько шаров каждого цвета было у Маши?




Задача 16

Вова ростом выше Оли, но ниже Пети. Кто выше: Оля или Петя?



Задача 50

У Кати с Сашей было 3 груши и 5 слив. Съели все груши и столько же слив. Сколько слив осталось?



Задача 51

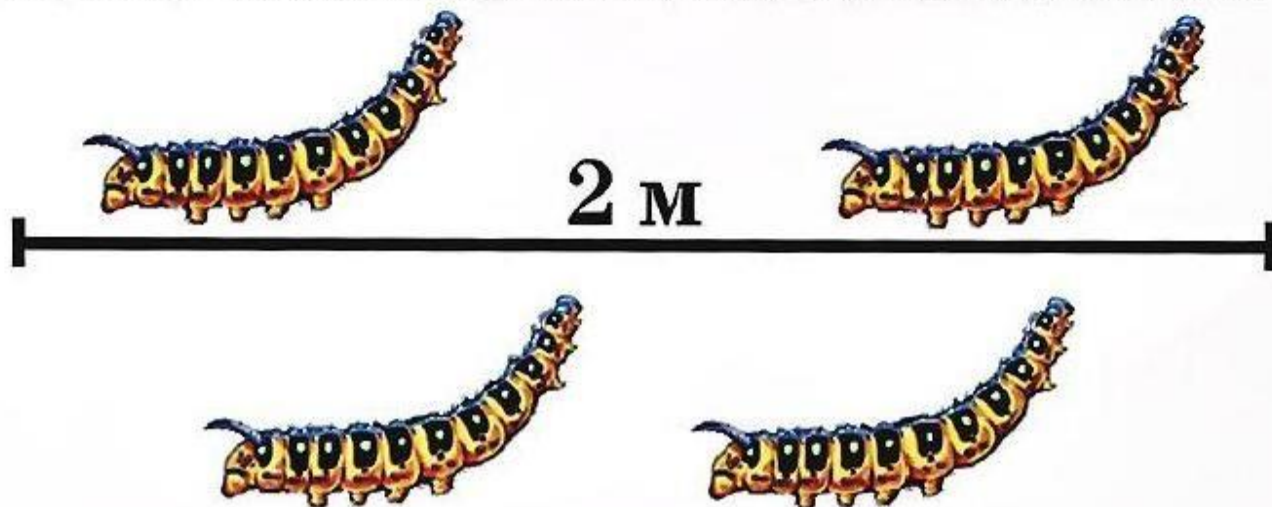
Чтобы сварить 1 литр супа, требуется 1 час. За сколько часов можно сварить 2 литра супа?

Задача 52

Две девочки играли в куклы 2 часа. Сколько времени играла каждая из них?

Задача 53


4 гусеницы проползли 2 метра. Сколько метров проползла одна гусеница?



У Кати в корзинке было 2 гриба. У дороги она нашла ещё 3 гриба. Сколько грибов стало у Кати в корзинке?





У Серёжи было 5 бубликов. Его щенок съел 3 бублика. Сколько бубликов осталось у Серёжи?



Задача 12

Восемь слив надо разделить поровну между двумя детьми.



Задача 13

На ветке сидело несколько синичек. У них всего шесть крыльев. Сколько у них головок?



Задача 3

По двору ходят гуси. У всех гусей Саша насчитал 6 лап. Сколько гусей во дворе?



Задача 4

7 детей принесли в детский сад по одному воздушному шарик. Сколько шариков дети принесли в детский сад?



Задача 5

Петя, Нина, Вова, Юра и Надя. Сколько мальчиков? Сколько девочек? Сколько всего детей?



Петя



Нина



Юра



Надя



Вова

Задача 6

Мама взяла несколько помидоров и все их использовала: три помидора положила в суп и столько же нарезала в салат. Сколько помидоров было у мамы вначале?

