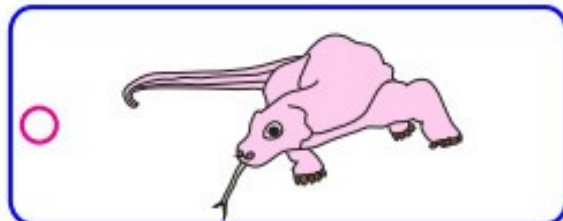
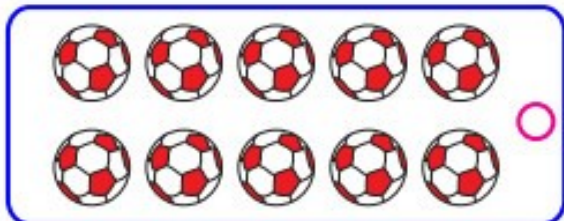




# Больше, меньше, равно

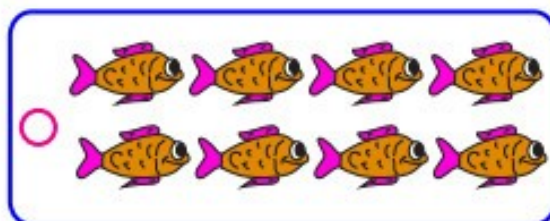
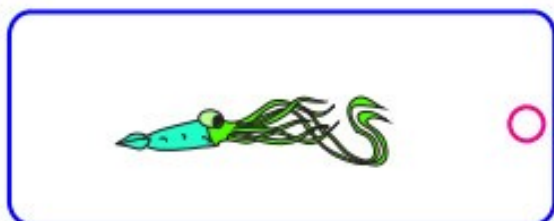
В каком прямоугольнике больше предметов?





В каком прямоугольнике больше предметов? Он расположен слева или справа?



В каком прямоугольнике меньше предметов?



В каком прямоугольнике меньше предметов? Он расположен справа или слева?



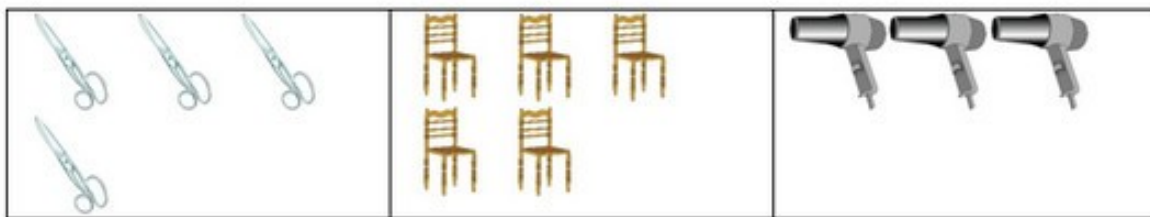
Где больше кружек, справа или слева?



Где меньше тарелок, справа или слева?



В какой клетке больше предметов?



В какой клетке меньше предметов?

