


Задача 46

Зайчик купил воздушные шарик и все их раздарил: два шарика он подарил мышке и столько же подарил медвежонку. Сколько шариков купил зайчик?




Задача 47

Помоги Пете рассадить 10 рыбок поровну в два аквариума.



Задача 14

Полоску бумаги надо разделить на четыре одинаковые части. Сколько над-
резов надо сделать на этой полоске?



Задача 15

У Маши было четыре шара зелёного и жёлтого цветов. Зелёных шаров
было больше, чем жёлтых. Сколько шаров каждого цвета было у Маши?




Задача 16

Вова ростом выше Оли, но ниже Пети. Кто выше: Оля или Петя?



Задача 50

У Кати с Сашей было 3 груши и 5 слив. Съели все груши и столько же слив. Сколько слив осталось?



Задача 51

Чтобы сварить 1 литр супа, требуется 1 час. За сколько часов можно сварить 2 литра супа?

Задача 52

Две девочки играли в куклы 2 часа. Сколько времени играла каждая из них?

Задача 53

4 гусеницы проползли 2 метра. Сколько метров проползла одна гусеница?

